

第六单元《认识图形》检测题(A卷)(北师版)

(时间:40分钟 总分:100分)

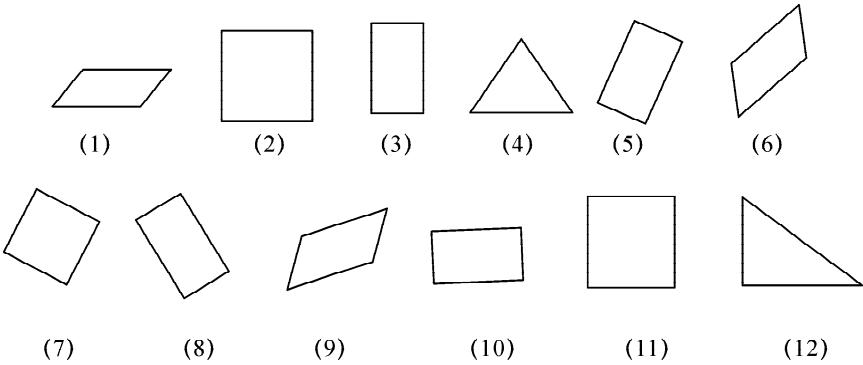
一、竖式计算并验算。(每题3分,共27分)

$612 + 299 =$ $357 + 148 =$ $499 + 271 =$

$500 - 174 =$ $600 - 375 =$ $820 - 427 =$

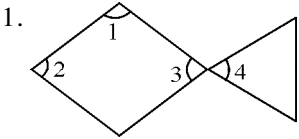
$813 - 215 =$ $523 - 397 =$ $938 - 339 =$

二、认一认,填一填。(1图1分,共12分)

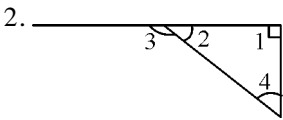


长方形_____;正方形_____;
三角形_____;平行四边形_____。

三、请你说出下列角各是什么角?(每空2分,16分)



$\angle 1$ 是()角
 $\angle 2$ 是()角
 $\angle 3$ 是()角
 $\angle 4$ 是()角



$\angle 1$ 是()角
 $\angle 2$ 是()角
 $\angle 3$ 是()角
 $\angle 4$ 是()角

四、画一画。(每题15分)

- (1)画一个边长是3厘米的正方形。
- (2)画一个长5厘米宽2厘米的长方形。

(3)按要求画角。


锐角 直角 钝角

五、数一数。(每空3分,共30分)

1. 下面每个图形里各有几个长方形。

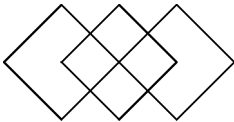


()个

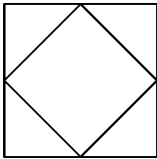


()个

2. 下面每个图形里各有几个正方形。



()个

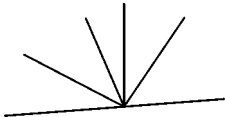


()个

3. 下面每个图形里各有()个平行四边形。



4. 下面图形中有()个锐角、()个直角、()个钝角。



5. 图中共有()个三角形,()个四边形。

